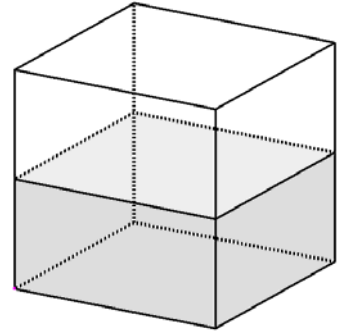


## Bijlage hoofdstuk 1: Bouwplaten van een kubus

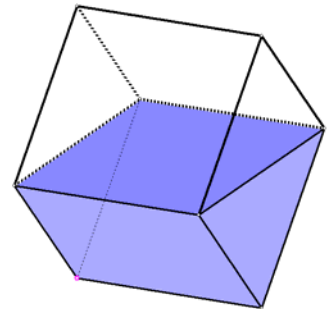
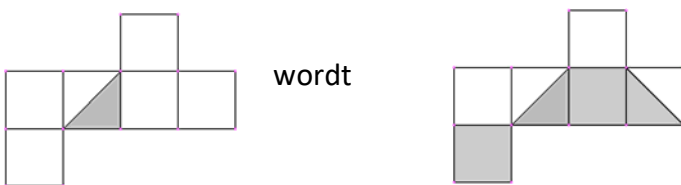
### Opdracht 1

In de figuur zie je een kubus half gevuld met water.  
Arceer op de bouwplaat welke (delen van d) zijanten van de kubus onder water staan.



### Opdracht 2a

In de figuur zie je een kubus half gevuld met water.  
Arceer op de bouwplaat welke (delen van de) zijanten van de kubus onder water staan.



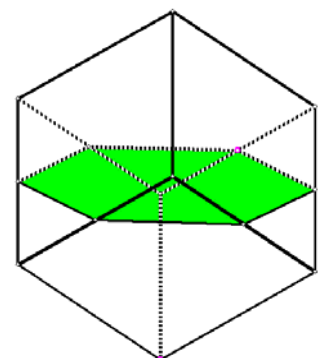
### Opdracht 2b

In de figuur zie je een kubus half gevuld met water.  
Arceer op de bouwplaat welke (delen van de) zijanten van de kubus onder water staan.



### Opdracht 3

In de figuur zie je het wateroppervlak van een kubus die half gevuld is met water.  
Arceer op de bouwplaat welke delen van de zijanten onder water staan.



Of je begint met een lege bouwplaat

