

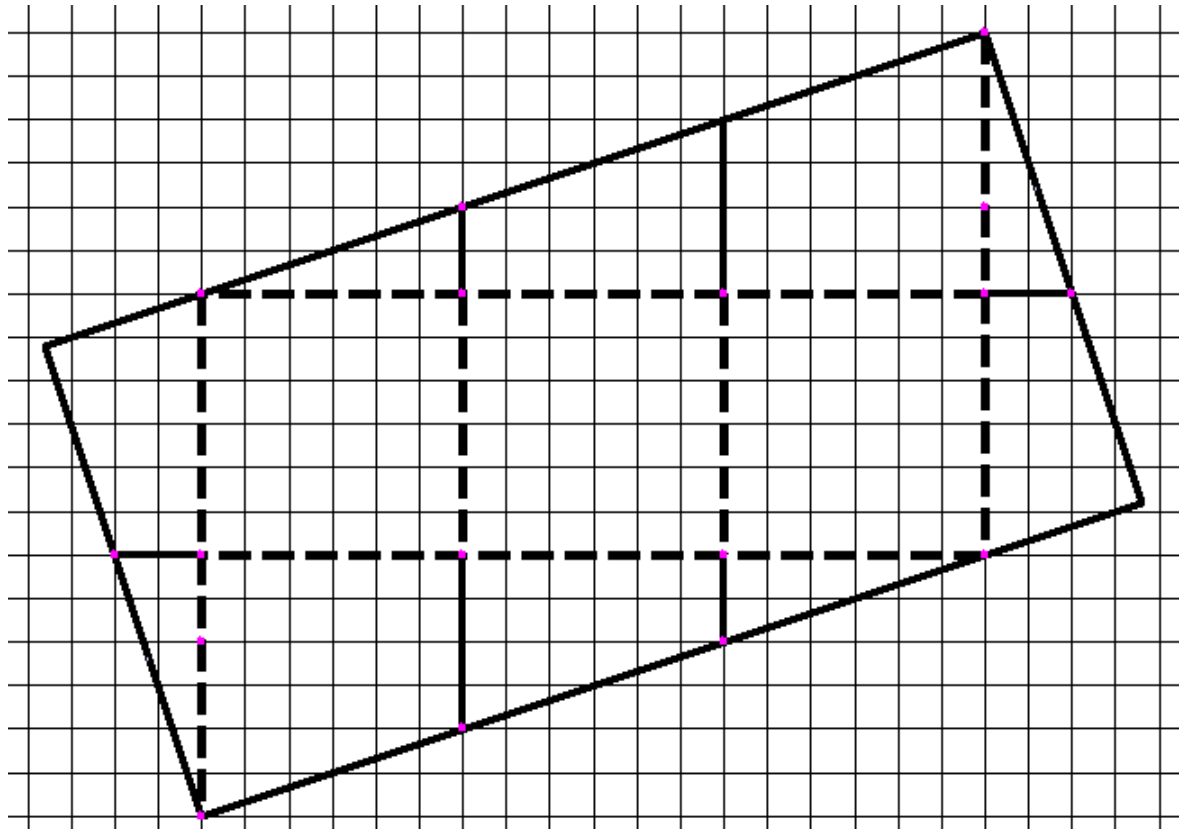


Bijlage hoofdstuk 29: Inpakken van een kubus

Bouwplaat 1

-  Dichte lijnen (in)knippen
-  Gestreepte lijnen vouwen

Bedenk welke vlakdelen een zijkant van de kubus bedekken (inpakken). Geef delen die een zelfde zijvlak bedekken de zelfde kleur. Kun je bewijzen dat alle zes zijvlakken worden bedekt?



Bouwplaat 2 hoe de zes zijvlakken worden bedekt

